

Jméno: _____

Hodnocení: _____

1) Zapiš následující čísla:

sedm = _____

osmnáct = _____

nula = _____

dvacet = _____

devět = _____

čtrnáct = _____

tři = _____

devatenáct = _____

jedenáct = _____

2) Dopln do číselných řad vhodná čísla:

a) 7, 8, 9, _____, 11, 12, _____, 14

b) _____, 19, 18, _____, 16, 15, 14, 13

c) 0, 1, _____, _____, 4, 5, 6, 7

d) 11, 12, 13, _____, 15, 16, _____, 18

3) Porovnej následující čísla:

7 ○ 17

20 ○ 18

15 ○ 15

13 ○ 3

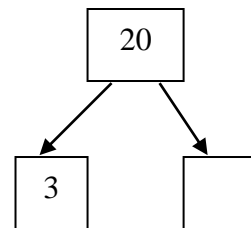
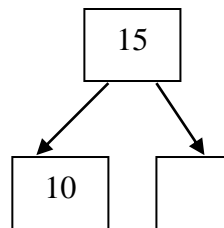
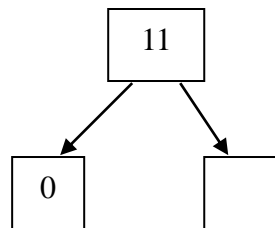
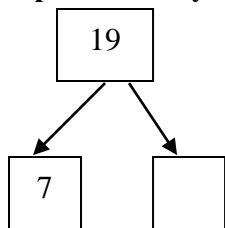
14 ○ 16

0 ○ 1

9 ○ 6

12 ○ 20

4) Dopln rozklady:



5) Spočítej následující příklady:

5 + 3 = _____

16 - 5 = _____

1 + 9 = _____

20 - 10 = _____

14 + 3 = _____

10 - 2 = _____

4 + 2 = _____

19 - 9 = _____

16 + 0 = _____

14 - 3 = _____

6) Spočítej příklady na sčítání s přechodem přes desítku:

7 + 7 = _____

5 + 9 = _____

6 + 8 = _____

9 + 9 = _____

4 + 8 = _____

9 + 2 = _____

6 + 5 = _____

7 + 5 = _____

7) Vyber správnou možnost:

5 + 8 =	9 + 8 =	16 - 4 =
A = 12 B = 13	A = 17 B = 19	A = 13 B = 12
20 - 5 =	3 + 9 =	10 - 0 =
A = 15 B = 5	A = 12 B = 11	A = 10 B = 20

8) Na pouti měli 4 červené balóanky a 9 modrých balóanky. Kolik balóanky měli celkem?

- podtrhni, co je důležité ve slovní úloze
- znázorni (vyznač desítku):

- vypočítej: _____

- zapiš odpověď: _____

Autorem materiálu a všech jeho částí, není-li uvedeno jinak, je Mgr. Petra Hamplová.

Dostupné z Metodického portálu www.rvp.cz, ISSN: 1802-4785, financovaného z ESF a státního rozpočtu ČR.

Provozuje Národní ústav pro vzdělávání, školské poradenské zařízení a zařízení pro další vzdělávání pedagogických pracovníků (NÚV).